




علوم ارزشیابی دی ماه

تاریخ:


آموزگار:

نام قشنگ من:

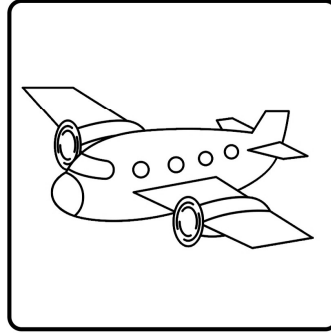
۱- کدام یک موجود زنده نیست؟




مگس



ماهی



هواپیما




جوجه


<https://t.me/sarzamineharfhaa>

۲- یک جاندار نقاشی کن که در آب زندگی می‌کند.


۳- کدام حیوان گوشت‌خوار است؟




گوسفند



شیر



اسب



گاو






تاریخ:

آموزگار:


نام قشنگ من:

۴- گیاه به وسیله‌ی چه چیزی از زمین تغذیه می‌کند؟ نام آن را بنویس.





<https://t.me/sarzamineharfhaa>


۵- کدام گیاه مربوط به مناطق گرم است؟



درخت خُرما

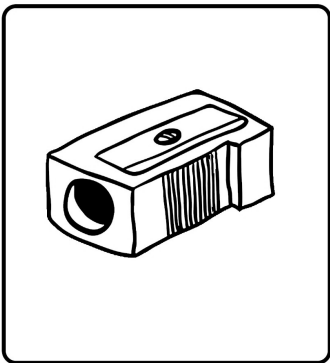


درخت کاج




درخت سیب


۶- کدام برای رشد به آب نیاز ندارد؟




تراش



درخت



گربه



انسان





علوم ارزشیابی دی ماه

تاریخ:


آموزگار:

نام قشنگ من:


۷- برای استفاده از تلویزیون به کدام اعضای بدن نیاز داریم؟ شکل آن‌ها را بکش.

۸- کدام وسیله برای کار کردن، به آب نیاز دارد؟


<https://t.me/sarzamineharfhaa>




چرخ خیاطی



ساعت




دوربین

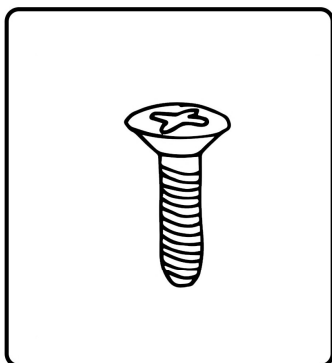


لباسشویی


۹- کدام یک از شکل‌ها زیر آب فرو می‌رود؟



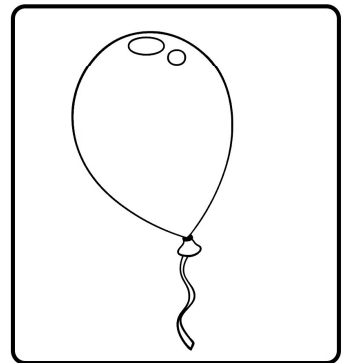
مداد



پیچ



پَر



بادکنک






علوم ارزشیابی دی ماه

تاریخ:

آموزگار:

نام قشنگ من:

۱۰- با توجه به سایه‌ها خورشید را در جای مناسب بکش.



<https://t.me/sarzamineharfhaa>

۱۱- میوه‌ی نصف شده را به میوه‌ی مرتبط وصل کن.

