



ارزشیابی ریاضی

تاریخ:

آموزگار:


نام قشنگ من:

۱- به تعداد شکل‌های سمت چپ از شکل‌های سمت راست رنگ بزن.

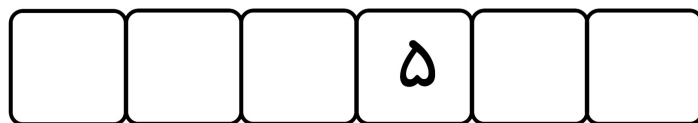


<https://t.me/sarzamineharfhaa>

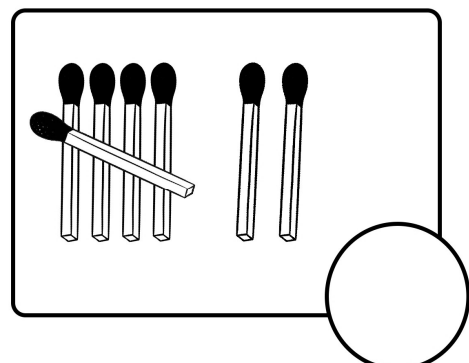
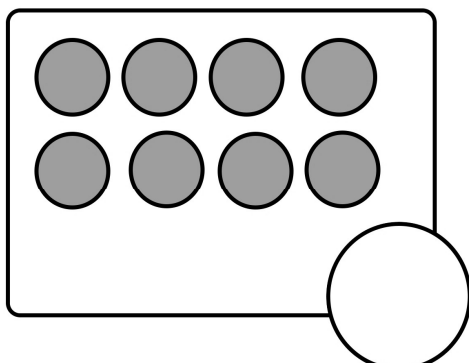
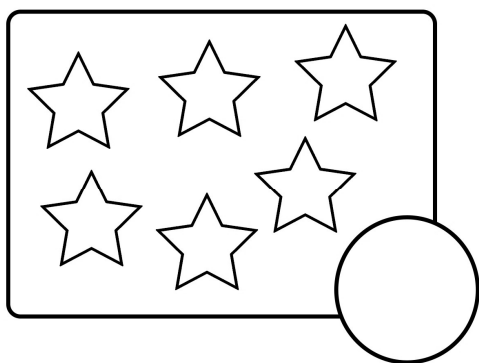
۲- دور گل سوم از سمت راست یک خط بسته بکش.



۳- عددهای قبل و بعد، عددهای نوشته شده را بنویس.



۴- عدد هر دسته را بنویس.



<https://t.me/sarzamineharfhaa>





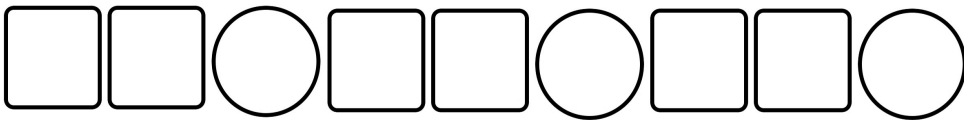
ارزشیابی ریاضی

تاریخ:

آموزگار:

نام قشنگ من:

۵- کدام ردیف الگوی مشخصی دارد؟ آن را ادامه بده.

۶- بین عددهای زیر علامت ($<$ $=$ $>$) قرار بده.

$3 \bigcirc 5$

$4 \bigcirc 2$

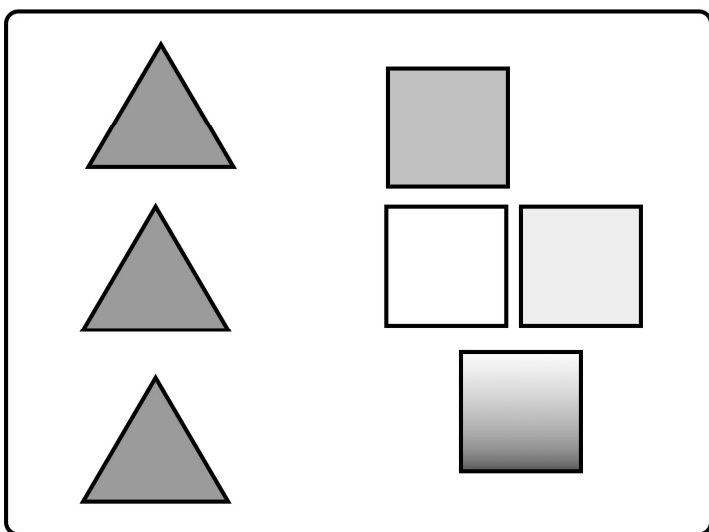
$6 \bigcirc 7$

$5 \bigcirc 5$

$6 \bigcirc 5$


$8 \bigcirc 4$

۷- در هر دسته شکل‌ها روی هم چندتا می‌شود؟ با چوب‌خط نشان بده و عدد را بنویس.



چوب‌خط

عدد



چوب‌خط

عدد





ارزشیابی ریاضی دی ماه

تاریخ:



آموزگار:

نام قشنگ من:

۸- جدول شگفت‌انگیز را کامل کن.

	۲	۳	۴	۵	۶	۷	۹	۸
۹	۴	۶	۳	۸		۲	۱	۵
۵	۸	۷	۹	۲	۱	۴	۳	۶
۴	۱	۵	۲	۳	۹	۶	۸	۷
	۶		۷	۱			۴	
۲	۷	۹	۸	۶	۴	۱	۵	۳
۸	۳	۱	۶	۴	۲	۵		۹
۷		۲	۱		۳	۸		۴
۶	۹	۴	۵	۷		۳	۲	

۹- نیمه‌ی دیگر شکل‌ها را کامل کن.




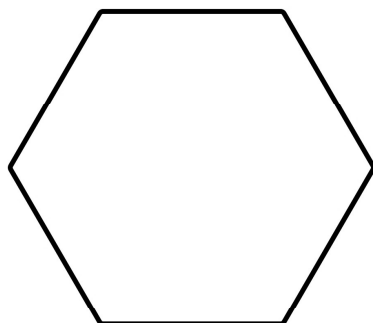



تاریخ:

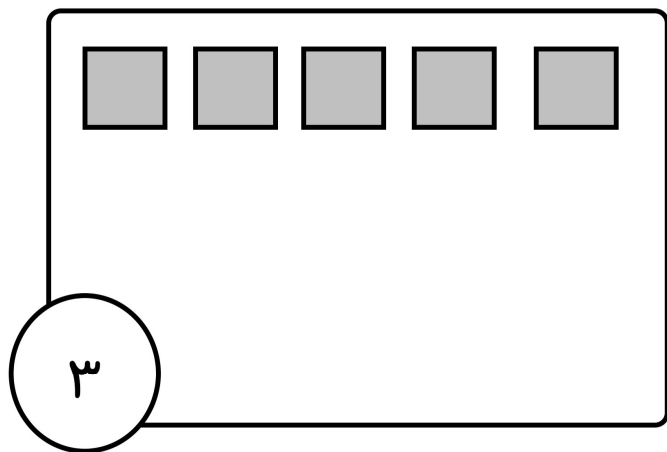
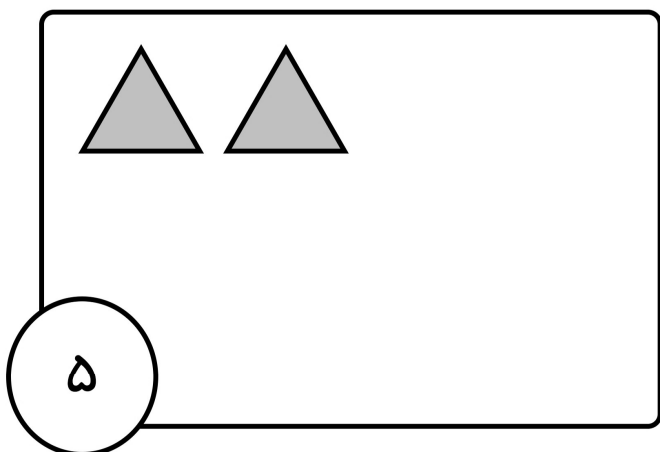
آموزگار:

نام قشنگ من:

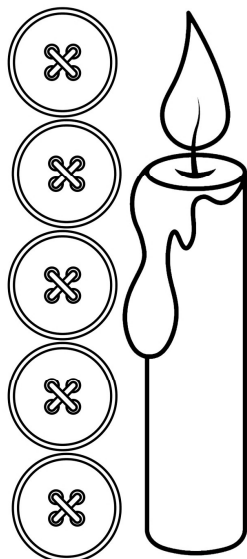
۱۰- برای شکل‌های زیر خط تقارن بکش. گوشه‌های شکل‌ها را مشخص کن.




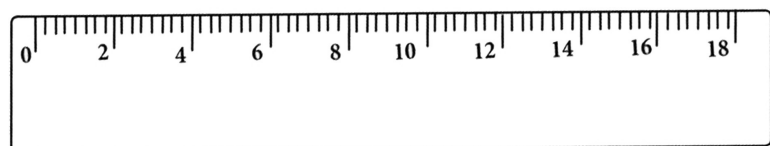
۱۱- به هر دسته به تعداد عدد داده شده شکل اضافه کن.



۱۲- اندازه‌ی هر شکل چند دکه است؟ عدد را بنویس و چوب‌خط بکش.



اندازه‌ی شمع — دکه است.



اندازه‌ی خط‌کش — دکه است.

