



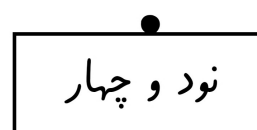
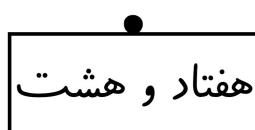

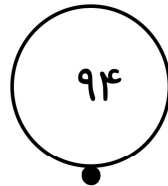

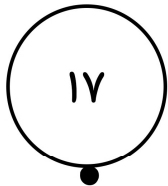

## ریاضی (اردیبهشت)

تاریخ:

آموزگار:

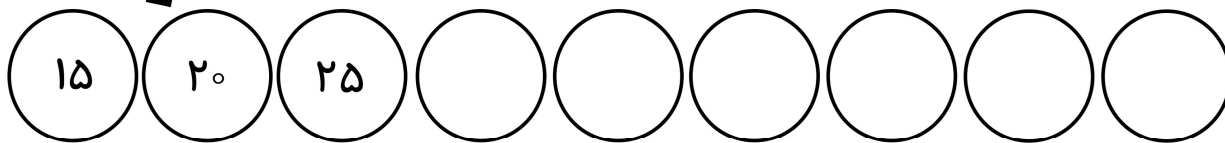
نام قشنگ من:

۱- عددهای مربوط به هم را با خط‌کش به هم وصل کن.



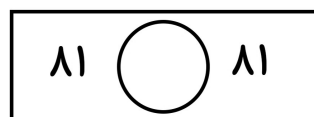
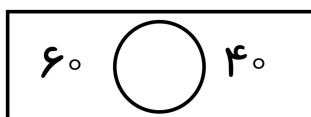
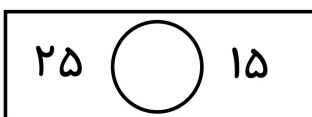
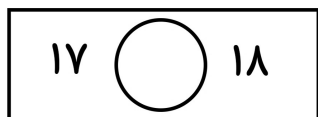
+?

۲- در هر ردیف الگو را ادامه بده.



-?

۳- در جای خالی علامت &lt;=&gt; قرار بده.

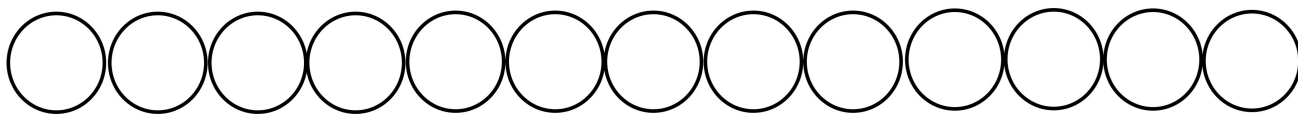


$10 + 10 = \text{---} \quad \text{---} \quad 15 - 5 = \text{---}$

$20 + 5 = \text{---} \quad \text{---} \quad 35 - 10 = \text{---}$

$10 - 5 = \text{---} \quad \text{---} \quad 10 + 5 = \text{---}$

۴- از عدد ۵۲ تا ۶۴ به ترتیب بنویس.





## ریاضی ( اردیبهشت )

تاریخ:

آموزگار:

نام قشنگ من:

۵- با دقت بخوان و جاهای خالی را کامل کن..

— ده‌تایی و — یکی می‌شود سی و شش.

۱ ده‌تایی و ۷ یکی می‌شود —.

— ده‌تایی و — یکی می‌شود ۵۴.

۹ ده‌تایی و ۰ یکی می‌شود —.

۶- آزاد ۱۲ کتاب داستان دارد و رها ۷ کتاب شعر دارد. آن‌ها روی هم چند

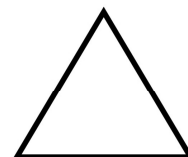


کتاب دارند؟ ( شکل بکش، عبارت را بنویس و جواب را به دست بیاور).

۷- رها ۲۰ گل رز داشت. ۴ تا به برادرش آزاد و ۴ تا را به دوستش صادق داد.

حالا او چند گل رز دارد؟ ( با استفاده از محور، حل کن.)



۸- نام هر شکل را بنویس.





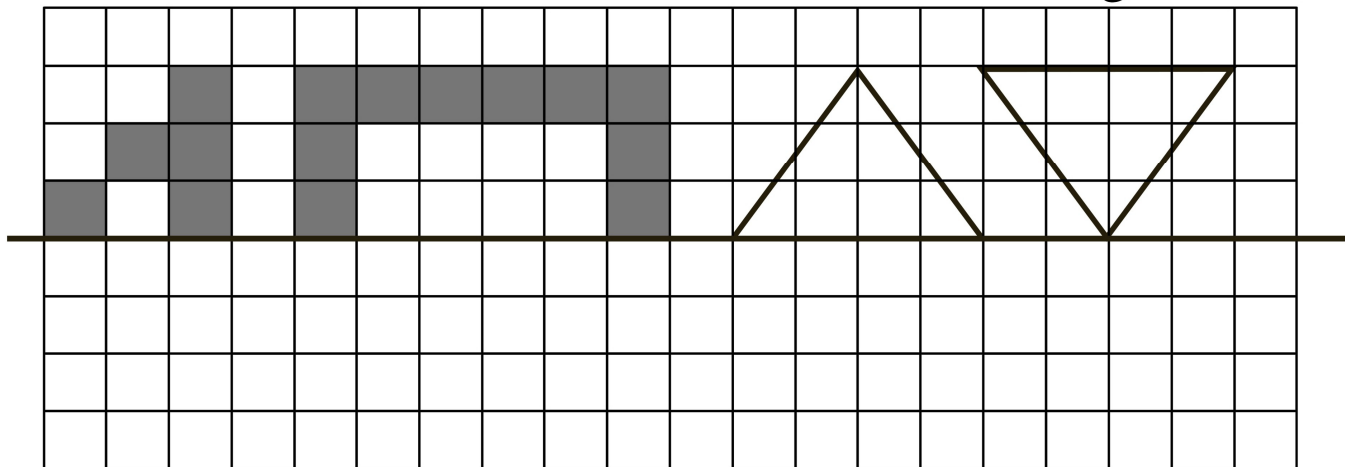
## ریاضی ( اردیبهشت )

تاریخ:


آموزگار:

نام قشنگ من:


۱۲- کامل کن.




۱۴- دسته‌های ده‌تایی جدا کن و در جای خالی عدد مناسب بنویس.



ده‌تایی	یکی



۱۵- به شکل‌ها نگاه کن و سوال‌ها را جواب بده.



داخل مربع بزرگ یک دایره‌ی کوچک بکش.

دایره‌ی بالای مثلث را با مداد قرمز رنگ بزن.

بزرگ‌ترین دایره را آبی کن.

کوچک‌ترین مثلث را با مداد زرد رنگ بزن.

سخت‌چپ تصویر یک مستطیل بکش.

مربع سخت‌راست را با مداد سبز رنگ بزن.





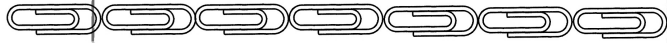

ریاضی ( اردیبهشت )

تاریخ:

آموزگار:

نام قشنگ من:

۹- با توجه به شکل‌ها جاهای خالی را با عدد مناسب پر کن.



اندازه‌ی مداد بین — تا — گیره‌ی کاغذ است.

اندازه‌ی مداد بین — تا — مربع است.


اندازه‌ی مداد بین — تا — مدادتراش است.

۱۰- ساعت چند است؟










۱۱- جاهای خالی را با عدد مناسب پر کن.

۴	۱	۶	۹	۷	۸	۳	۲	۵
۷		۲	۵	۱	۴	۶	۹	۸
۹	۸	۵	۲	۶	۳	۱	۷	۴
۲	۵	۴	۳		۱	۸	۶	۷
۸	۷	۱	۶	۵	۲	۹		۳
۶	۹	۳	۸	۴	۷	۵	۱	۲
۱	۴		۷	۳	۵	۲	۸	۶
۵	۶	۸	۴	۲	۹	۷	۳	۱
۳	۲		۱	۸	۶	۴		۹

