



ارزشیابی فروردین

تاریخ:

آموزگار:

نام قشنگ من:

۱- حاصل جمع‌های زیر را به صورت ذهنی پیدا کن و با حروف و عدد بنویس.

$$10 + 10 + 5 + 5 = \square$$

$$10 + 20 + 5 + 5 = \square$$

$$10 + 5 + 5 + 5 = \square$$

با حروف _____


با حروف _____

با حروف _____

<https://t.me/sarzamineharfhaa>

۲- جاهای خالی را با عدد مناسب کامل کن.

$43 + 7 = 50$



هفتاد و پنج هفتاد

-۵

۳- جواب تفریق‌های زیر را بنویس.

$$50 - 10 = \square$$

$$65 - 5 = \square$$


$$45 - 5 = \square$$

$$15 - 5 = \square$$

$$80 - 10 = \square$$

$$75 - 5 = \square$$

۴- از عدد ده تا نود، ده تا ده تا بنویس.



<https://t.me/sarzamineharfhaa>





ارزشیابی فروردین

تاریخ:

آموزگار:

نام قشنگ من:

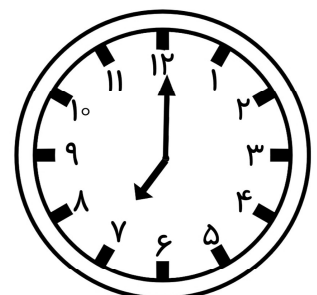
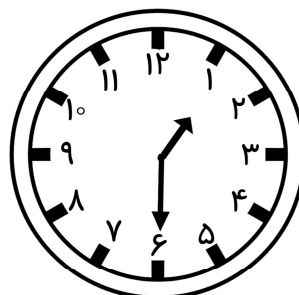
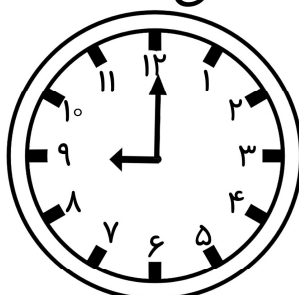
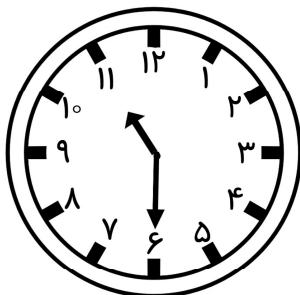
۵- پرهام دو بسته‌ی ۱۰ تایی مداد داشت. او ۶ مداد به ژاله داد و ۳ مداد به مسعود داد. حالا پرهام چند مداد دارد؟ (با استفاده از محور پاسخ بده).



۶- سمیرا ۱ بسته‌ی ۱۰ تایی بادکنک قرمز و ۲ تا بادکنک آبی دارد. برادرش علی ۴ بادکنک زرد به او هدیه داد. حالا سمیرا چند بادکنک دارد؟



۷- زمانی را که ساعت نشان می‌دهد بنویس.



۸- قبل و بعد عددهای زیر را بنویس. دایره‌ی بزرگترین عدد را رنگ بزن.

