




# ارزشیابی ریاضی

تاریخ:

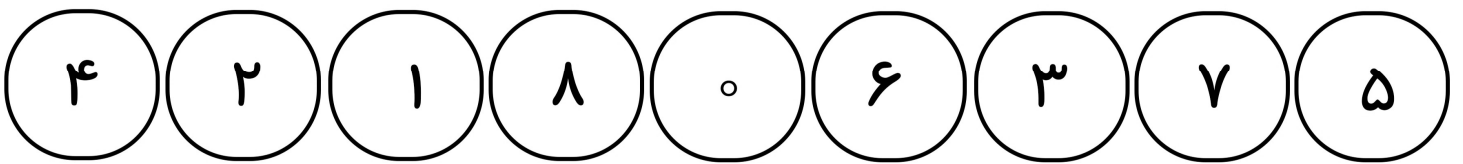
آموزگار:

نام قشنگ من:

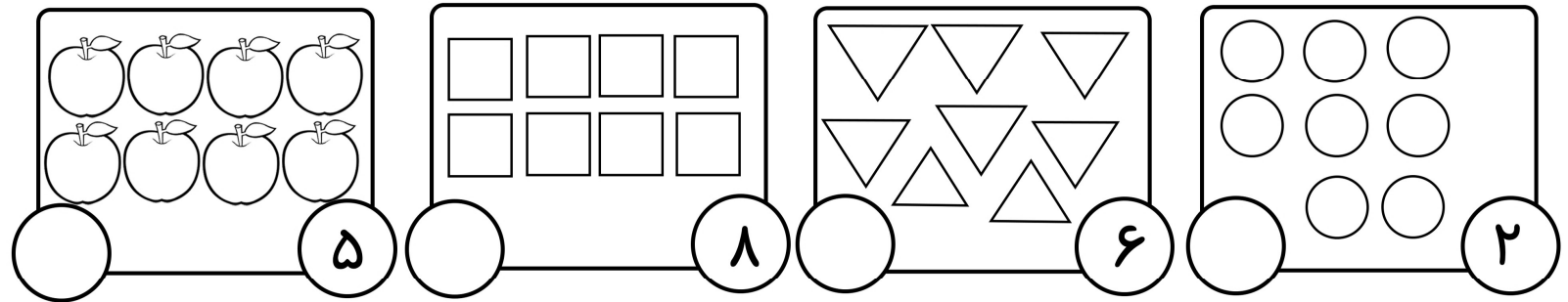
هر دسته را به عدد مناسب وصل کن.



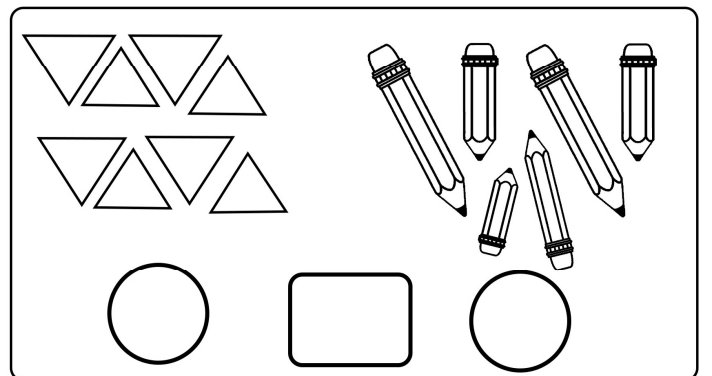
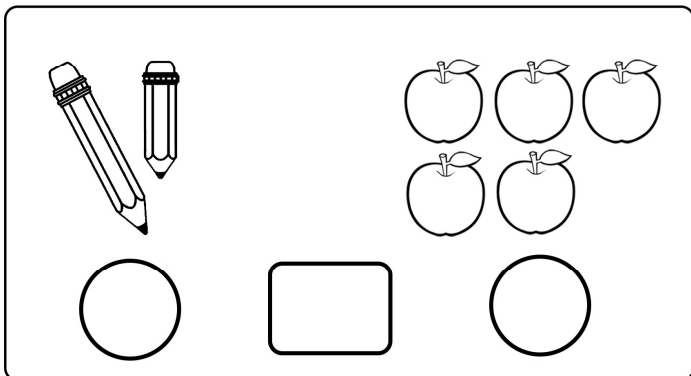
<https://t.me/sarzamineharfhaa>




به تعداد عددهای داده شده، شکل‌ها را رنگ بزن. از هر دسته چندتا شکل رنگ نشد؟  
عدد را در دایره سمت چپ بنویس.



در جای خالی عدد تعداد شکل‌ها را بنویس. علامت صحیح (<=>) را قرار بده.



از ۰ تا ۸ به ترتیب بنویس.



<https://t.me/sarzamineharfhaa>





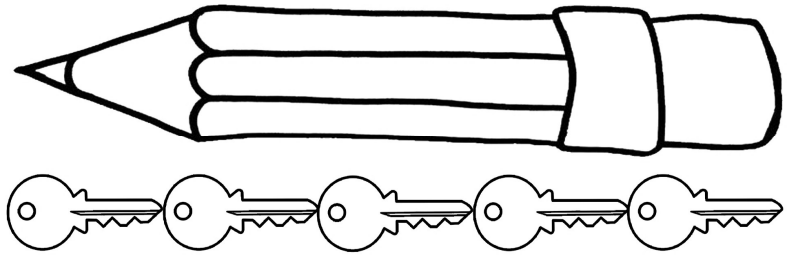

# ارزشیابی ریاضی

تاریخ:

آموزگار:

نام قشنگ من:

اندازه‌ی هر شکل چند تا کلید است؟ عدد را بنویس و چوب خط بکش.





اندازه‌ی شمع \_\_\_\_\_ تا کلید است.

اندازه‌ی مداد \_\_\_\_\_ تا کلید است.

<https://t.me/sarzamineharfhaa>

در هر دسته شکل‌ها روی هم چندتا می‌شود؟ با چوب خط نشان بده و عدد را بنویس.



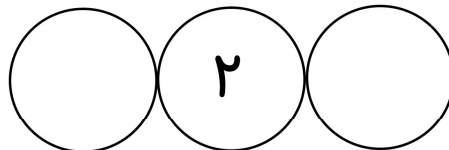
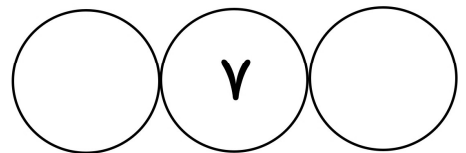
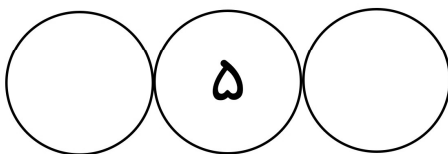
چوب خط

عدد

چوب خط

عدد

قبل و بعد عددها را بنویس.



<https://t.me/sarzamineharfhaa>





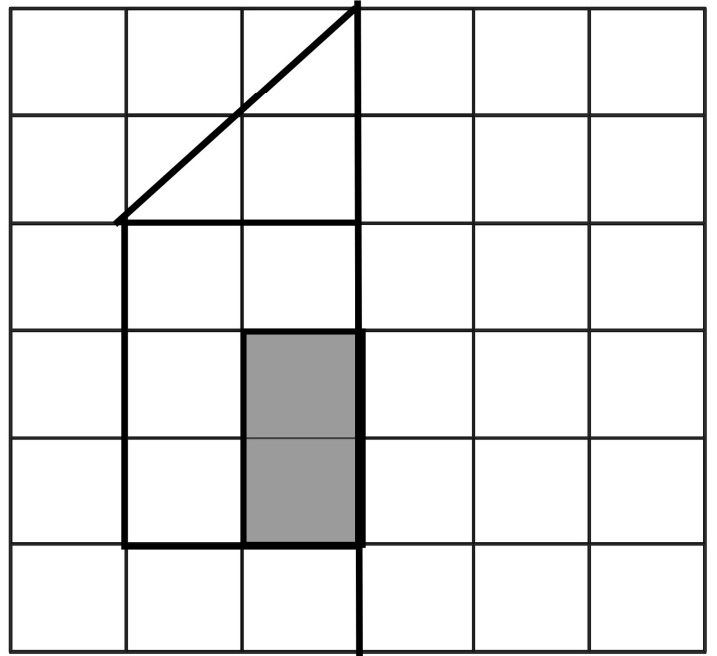
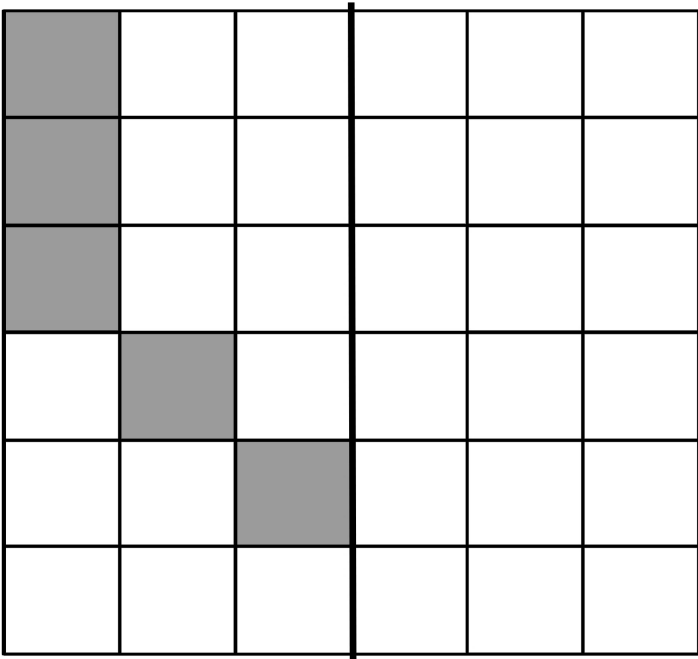
# ارزشیابی ریاضی

تاریخ:

آموزگار:

نام قشنگ من:

نیمه‌ی دیگر شکل را کامل کن.



<https://t.me/sarzamineharfhaa>

جدول‌های شگفت‌انگیز را کامل کن.

۱	۲		۴
	۳	۲	۱
۳		۴	۲
۲	۴	۱	

۱	۲	۳	۶	۵	۴
۴	۵		۳	۲	
۲	۶	۱			۳
۳		۵	۱	۶	۲
۵	۱		۴	۳	
۶	۳	۴		۱	۵

<https://t.me/sarzamineharfhaa>

